



# Matematikos testai


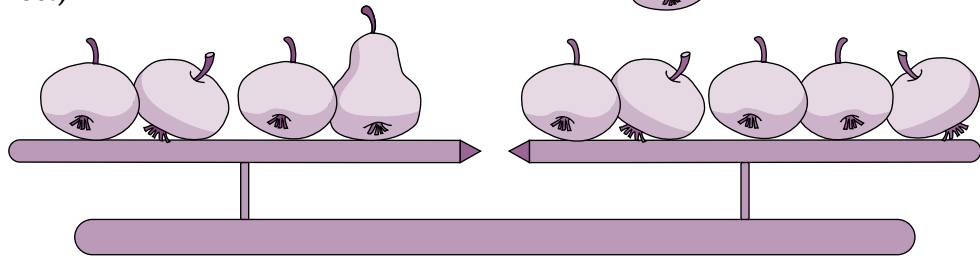


Rasa Rugelienė

## TURINYS

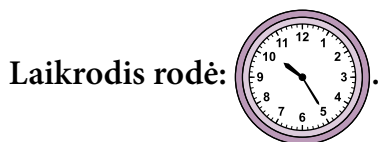
Pratarmė .....	4
1 testas .....	8
2 testas .....	15
3 testas .....	22
4 testas .....	28
5 testas .....	36
6 testas .....	42
7 testas .....	48
8 testas .....	54
9 testas .....	60
10 testas .....	66

20. Vienas  sveria 150 g. Kiek sveria viena  ? (Svarstyklės pusiausviros.) 1 taškas




Atsakymas: ..... gramų.

21. Marius ryte atėjo į stotelę. 2 taškai



Pažiūrėk į autobusų tvarkaraštį ir parašyk, kiek laiko Mariui reikės laukti, kol atvažiuos autobusas.

Užrašyk sprendimą:



Val.	Min.
5	28
6	01 22 43
7	04 26 48
8	09 30 51
9	16
10	06 56
11	28
12	00 33
13	04 38

Atsakymas: .....

22. Taupyklėje Dovydas turi šiuos pinigus:



a) Kiek pinigų Dovydas sutaupė? 1 taškas

Atsakymas: ..... € ..... ct.

23. Kuris iš šių skaičių lygus  $\frac{3}{10}$ ?

1 taškas

A 3,0

B 0,3

C 0,03

D 3,10

24. Nuėjusi į parduotuvę, mama pamatė, kad vaikų mėgstamiems saldainiams taikoma nuolaida. Kiek pinigų sutaupė mama?

1 taškas

Atsakymas: .....



25. Rūtos šeima atvyko į oro uostą 4 h 40 min. Pagal skrydžių lentelę nustatyk, kur skrido Rūta, jei iki skrydžio pradžios buvo likę 2 h 20 min.

1 taškas

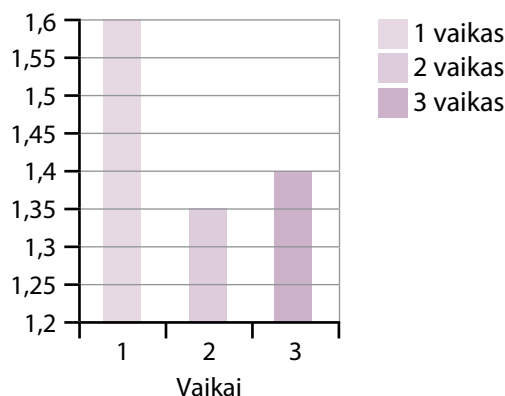
Data	Laikas	Vyksta į	Skrydžio Nr.
2013 04 02	06:00	Maskva VKO, Rusija	UT 704
2013 04 02	06:30	Varšuva, Lenkija	LO 774
2013 04 02	06:40	Kopenhaga, Danija	SK 743
2013 04 02	06:55	Ryga, Latvija	BT 350
2013 04 02	07:00	Hurgada, Egiptas	LLC3205
2013 04 02	07:20	Talinas, Estija	OV 652
2013 04 02	10:50	Antalija, Turkija	FH 980

Atsakymas: .....

26. Remdamasis pateiktais duomenimis, nustatyk Sauliaus ūgį.

1 taškas

Marius yra aukščiausias, Rokas – žemiausias, o Saulius 20 cm žemesnis už Marių.



Atsakymas: .....

27. Parašyk gretimus skaičius.


1 taškas

....., 2009, .....



7. Kuriame sakinyje laikrodžio rodomas laikas užrašytas teisingai?

- A Be dešimties minučių pirma valanda.
- B Dešimt minučių po dviejų.
- C Be dvidešimt minučių dvi valandos.
- D Be dešimties minučių antra valanda.



1 taškas

8. Sumažink 200 000 penkis kartus.


- A 40 000                      B 10 000                      C 4000                      D 10 0000

1 taškas

9.  $\frac{1}{8}$  kg saldainių kainuoja 90 ct. Kiek kainuos 3 kilogramai tokių saldainių?

1 taškas

Užrašyk sprendimą:




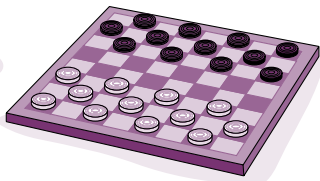
Atsakymas: .....

10. Saulė turi



. Kurias iš pateiktų prekių ji gali nusipirkti?

1 taškas



5 € 50 ct

4 € 50 ct


3 €

10 €

5 € 50 ct

- A Visas.
- B Lėlę, knygą ir tortą.
- C Šaškes, skėtį, tortą ir knygą.
- D Šaškes, knygą ir lėlę.

11. Kai obuolius sudėjo į 6 krepšelius po 8 į kiekvieną, liko 4 obuoliai. Kiek obuolių buvo iš viso?




1 taškas

Atsakymas: ..... obuoliai.

22. Nupiešk tinkamą paskutinį piešinį.

1 taškas



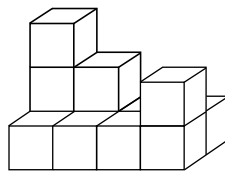
23. Kuriame uždavinyje yra nereikalingos informacijos arba jos trūksta?

1 taškas

- A Garlaivio greitis 24 km per valandą. Kiek kilometrų jis nuplauks per 7 valandas?
- B Mama už 2 lėkštes sumokėjo 4 €. Kiek ji sumokėtų už 5 tokias pat lėkštes?
- C Salės ilgis lygus 28 m. Apskaičiuok salės plotį.
- D Viename sklype pasodino 200 kopūstų daigų, kitame – 3 kartus daugiau. Kiek kopūstų daigų pasodino iš viso?

24. Kiek kubelių sudaro statinį?

1 taškas

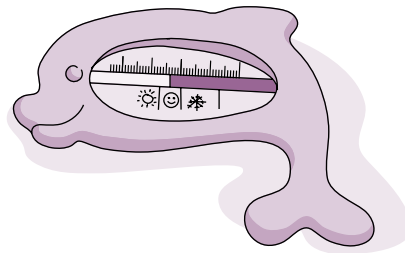


Atsakymas: ..... kubelių.

25. Nuo 10 h iki 13 h Kęstutis kas valandą matavo vandens temperatūrą akvariume. Kiek matavimų atliko berniukas?


1 taškas

- A 5
- B 3
- C 4
- D 6



26. 30 centimetrų gylio duobė per dieną prisipildo iki 18 cm vandens. Per naktį tas vanduo nukrinta 12 cm žemyn. Kiek dienų prireiks, kad duobė būtų pilna vandens?

1 taškas



Atsakymas: ..... dienų.

27. Kam lygu 10 minučių?

1 taškas

- A 1000 s
- B 60 s
- C 600 s
- D 100 s

