

# 2 TESTAS. Domas važiuoja į mokyklą

Triženklį skaičių sudėtis ir atimtis. Laikas. Temperatūra



1 Pamokos prasideda 8 h. Domas į mokyklą išvažiavo, kai

laikrodis rodė .

Kelyje Domas užtruko 25 min. Ar spėjo jis laiku atvykti į mokyklą? Paaiškink, kodėl taip manai.

Spėjo, nes \_\_\_\_\_

Nespėjo, nes \_\_\_\_\_ 1 taškas

2 Užrašyk šiems skaičiams tokius gretimus skaičius, kad skaičiai būtų palyginti teisingai.

$360 > \square$        $\square < 400 < \square$

$590 < \square$        $\square > 820 > \square$

4 taškai

3 Domas sužinojo, kad pirmieji mokykliniai autobusai – arklių traukiamos daugiavietės karios – atsirado Anglijoje 1827 m.

a) Kelintas tai amžius?

Ats.: \_\_\_\_\_

1 taškas

b) Kelintame amžiuje gyvename mes?

Ats.: \_\_\_\_\_

1 taškas

4 Atlik sudėties ir atimties veiksmus.

$$\begin{array}{r} 233 \\ + 451 \\ \hline \square \end{array}$$

$$\begin{array}{r} 374 \\ + 125 \\ \hline \square \end{array}$$

$$\begin{array}{r} 935 \\ - 214 \\ \hline \square \end{array}$$

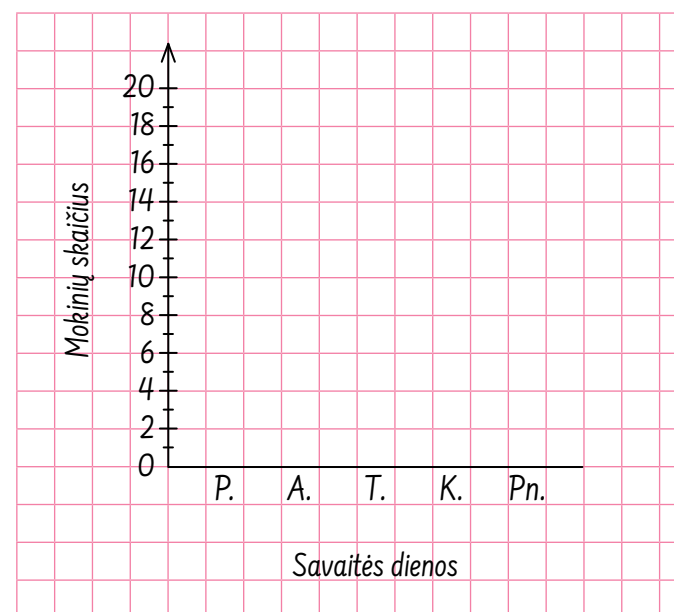
$$\begin{array}{r} 738 \\ - 325 \\ \hline \square \end{array}$$

4 taškai

5 Mokykliniame autobuse iš viso yra 19 sėdimų vietų. Domas visą savaitę stebėjo ir rašė į lentelę, kiek mokinių kartu su juo važiuoja į mokyklą.

Savaitės dienos	P.	A.	T.	K.	Pn.
Mokinių skaičius	17	15	18	18	16

a) Lentelėje pateiktus duomenis pavaizduok diagrama.



1 taškas

b) Kurią savaitės dieną mokykliniu autobusu važiavo daugiausia mokinių?

Ats.: \_\_\_\_\_

1 taškas

c) Kurią dieną mokykliniu autobusu važiavo mažiausiai mokinių?


Ats.: \_\_\_\_\_

1 taškas

6 Rask nežinomus dėmenis.

$$312 + \square = 687$$

$$\square + 275 = 879$$



2 taškai

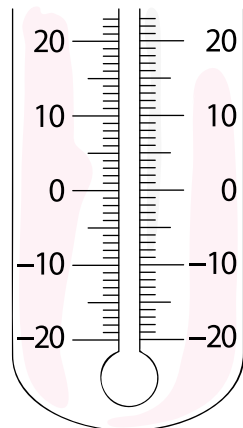
7 Kai Domas po pamokų išėjo iš mokyklos, lauke buvo šilta.

a) Apskaičiuok reiškinių reikšmę ir sužinosi, kokia tuo metu buvo oro temperatūra.

$$24 - 32 : 4 = \square$$

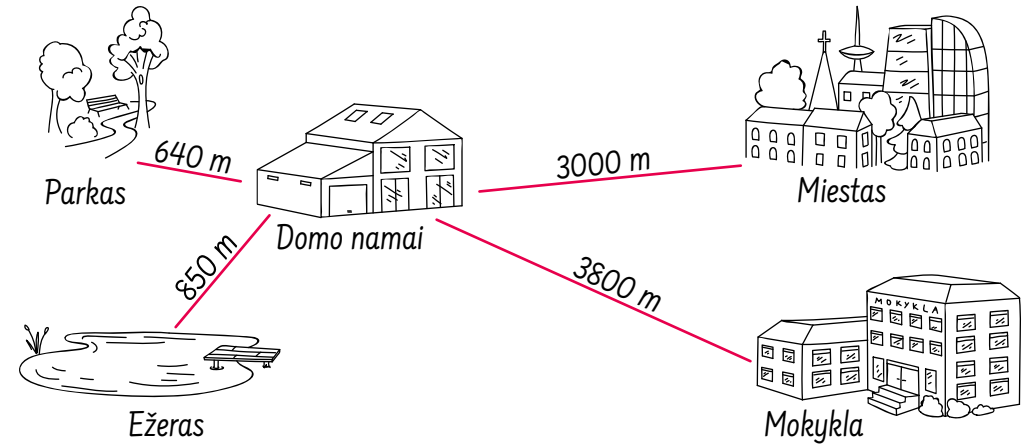
1 taškas

b) Pažymėk apskaičiuotą oro temperatūrą nuspalvindamas termometro vamzdelį.



1 taškas

8 Remdamasis pateiktu planu atsakyk į klausimus.



a) Kiek kilometrų ir kiek metrų yra nuo Domo namų iki

mokyklos;  km  m

miesto;  km  m

parko;  km  m

ežero?  km  m

4 taškai

b) Kiek metrų ežeras yra toliau nuo Domo namų negu parkas?

Ats.: \_\_\_\_\_

1 taškas

9 Pirmą savaitę mokyklinis autobusas nuvažiavo 480 km, antrą – 120 km mažiau negu pirmą. Kiek kilometrų autobusas nuvažiavo per šias dvi savaites?

Ats.: \_\_\_\_\_

2 taškai



1 TESTAS



2 TESTAS



3 TESTAS



4 TESTAS



5 TESTAS



6 TESTAS



7 TESTAS



8 TESTAS



9 TESTAS



10 TESTAS

