

5 žingsnis





1. Jonukas veidrodyje pamatė laikrodį. Kiek valandų rodo šis laikrodis? Parašyk dešinėje.



--	--	--	--	--

2. Lėja skaito 28 puslapių pasaką. Ji pradėjo skaityti ketvirtadienį ir kasdien perskaito po 4 puslapius. Kurią dieną mergaitė baigs skaityti pasaką?

3. Įsižiūrėk į termometrus ir pastebėk, koku dėsningumu keičiasi jų rodmenys. Pažymėk, kiek laipsnių rodys paskutinis termometras.




--	--	--	--	--	--	--	--	--	--	--	--	--	--	--

4. Milda, Ramunė ir Tadas piešė geometrines figūras: trikampį, skritulį ir kvadratą. Yra žinoma, kad Tadas nepiešė skritulio, o Ramunė nepiešė nei skritulio, nei kvadrato. Kas kokią figūrą piešė?



--	--	--	--	--	--	--	--	--	--	--	--	--	--	--

5. Lina tam tikra tvarka dėlioja į eilę korteles. Kurią iš dviejų likusių kortelių ji padės eilės gale? Parink tinkamą kortelę ir sujunk ją rodykle su tuščia kortele.



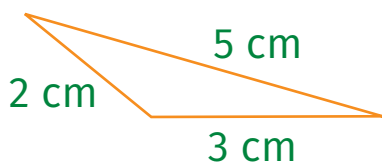
6 žingsnis

1. Įrašyk trūkstantus skaičius ir skaitmenis.

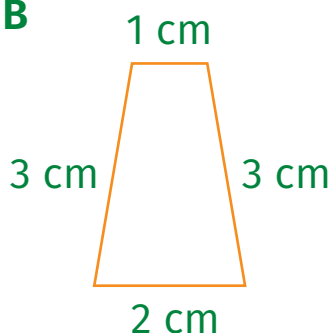
a) $1 \square - 6 = 7$; b) $12 - \square = 5$; c) $\square + 9 = 17$.

2. Sigitas iš vielos išlankstė pavaizduotų geometrinių figūrų modelius. Apibrėžk figūrą, kurios modeliui išlankstyti Sigitas sunaudojo daugiausia vielos.

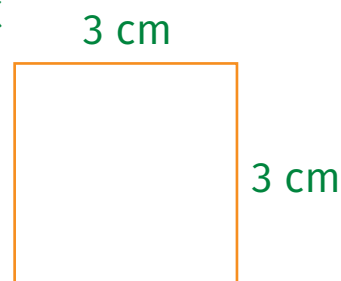
A



B



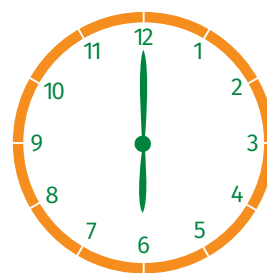
C



3. Įsižiūrėk, kokia tvarka išdėliotos figūros eilėje, ir pratęsk šią eilę – nupiešk dar dvi figūras.



4. Kiekvienas žadintuvas suskambės po 30 minučių. Parašyk, kada suskambės kiekvienas žadintuvas.



.....

.....

.....

.....

5. Živilė, Justinas ir Kristina spalvino savo oro balionus skirtingomis spalvomis. Živilė nuspalvino žaliai, Justinas nepasirinko nei žalios, nei oranžinės spalvos. Kokia spalva savo oro balioną nuspalvino Kristina?



--	--	--	--	--	--	--	--	--	--	--	--	--	--	--	--	--	--	--	--

7 žingsnis

1. Išbrauk nereikalingą skaičių.

5 m, 8 cm, 19 mm, 12 km, 6 kg, 1 dm.

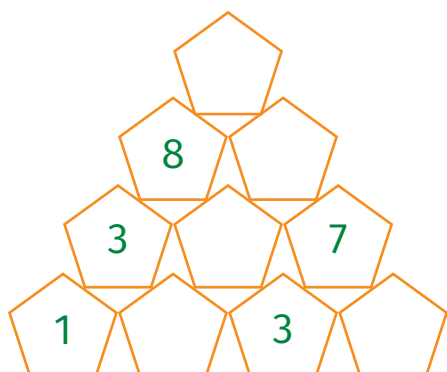
--	--	--	--	--	--	--	--	--	--	--	--	--	--	--	--	--	--	--	--

2. Parašyk praleistus skaičių sekos narius.

1, 7, 13,, 25,, 37.

--	--	--	--	--	--	--	--	--	--	--	--	--	--	--	--	--	--	--	--

3. Užpildyk skaičių piramidę. Pradėk pildyti nuo apačios. Skaičius įrašyk taip, kad kiekvienas skaičius būtų lygus dviejų žemiau esančių gretimų skaičių sumai.



4. Jurgita tam tikra tvarka dėlioja į eilę korteles. Padėk jai išrinkti kitą kortelę. Nubrėžk rodyklę nuo išrinktos kortelės iki tuščios.



14 žingsnis

1. Parašyk praleistą skaičių sekos narį.
60, 48,, 24, 12.

2. Kelinta balandžio mėnesio diena yra balandžio mėnesio pirmas penktadienis?




3. Lyginis ar nelyginis skaičius yra prieš skaičių 34?

--	--	--	--	--	--	--	--	--	--	--	--	--	--	--	--	--	--	--	--

4. Užvakar buvo antradienis. Kuri savaitės diena bus poryt?

--	--	--	--	--	--	--	--	--	--	--	--	--	--	--	--	--	--	--	--

5. Parašyk, kiek rodys laikrodžiai po 15 minučių.



Jeį rodomas laikas iki vidurdienio:

.....

Jeį rodomas laikas po vidurdienio:

.....

15 žingsnis

1. Pratęsk skaičių seką.

4, 5, 7, 10, 14,,,

--	--	--	--	--	--	--	--	--	--	--	--	--	--	--	--	--	--	--	--	--	--	--

2. Kiek trečiadienių turi 2020 metų spalio mėnuo?

SPALIS

P	A	T	K	Pn	Š	S	
				1	2	3	4
5	6	7	8	9	10	11	
12	13	14	15	16	17	18	
19	20	21	22	23	24	25	
26	27	28	29	30	31		

3. Ant stalo padėtos 2 kriaušės. Kiekvieną iš jų padalijame į 2 dalis. Kiek dabar kriaušių yra ant stalo?

--	--	--	--	--	--	--	--	--	--	--	--	--	--	--	--	--	--	--	--	--	--	--

4. Kuo baigiasi rytas ir naktis?

--	--	--	--	--	--	--	--	--	--	--	--	--	--	--	--	--	--	--	--	--	--	--

5. Povilas žemesnis už Kristupą, bet aukštesnis už Žilviną. Kuris iš šių berniukų yra aukščiausias?

--	--	--	--	--	--	--	--	--	--	--	--	--	--	--	--	--	--	--	--	--	--	--



26 žingsnis

1. Tarp skaičių įrašyk veiksmų ženklus „+“ ir „-“ taip, kad lygybės būtų teisingos.

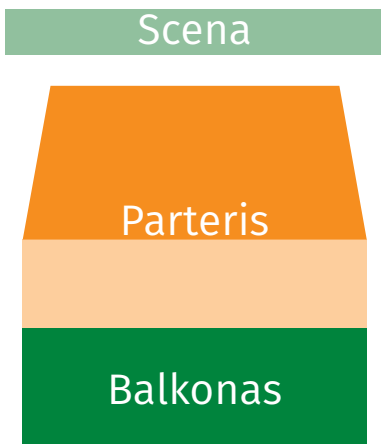
a) $94 \ 3 \ 2 \ 1 = 98;$

b) $94 \ 3 \ 2 \ 1 = 100;$

c) $94 \ 3 \ 2 \ 1 = 92;$

d) $94 \ 3 \ 2 \ 1 = 94.$

2. Justė, Ilzė ir Ignas eis į teatrą. Kurioje salės vietoje jie turėtų rinktis vietas, jei visi kartu galėtų mokėti už bilietus daugiau negu 15 eurų, bet ne daugiau kaip 20 eurų? Kiek kainuotų bilietai?



Kaina

■ (dark green)	4 Eur
■ (light orange)	6 Eur
■ (orange)	7 Eur

3. Elzė, Augustė ir Gabrielė yra seserys. Elzei ir Augustei kartu sudėjus 9 metai, o Augustei ir Gabrielei kartu sudėjus 12 metų. Kuri iš seserų vyresnė – Elzė ar Gabrielė?

--	--	--	--	--	--	--	--	--	--	--	--	--	--	--	--	--	--	--	--

