


## MOKSLININKŲ PĖDOMIS

KIEK KOKIŲ GYVŪNŲ YRA PAVEIKSLĖLYJE? SUSKAIČIUOK IR UŽPILDYK LENTELĘ. ANTRAME LENTELĖS STULPELYJE NUBRĖŽK TIEK BRŪKŠNELIŲ, KIEK SUSKAIČIUOSI ĮVAIRIŲ GYVŪNŲ. TREČIAME STULPELYJE PARAŠYK TOKĮ SKAIČIŲ, KIEK BRŪKŠNELIŲ NUBRĖŽEI. SUSKAIČIUOK IR PARAŠYK, KIEK IŠ VISO GYVŪNŲ YRA PAVEIKSLĖLYJE.

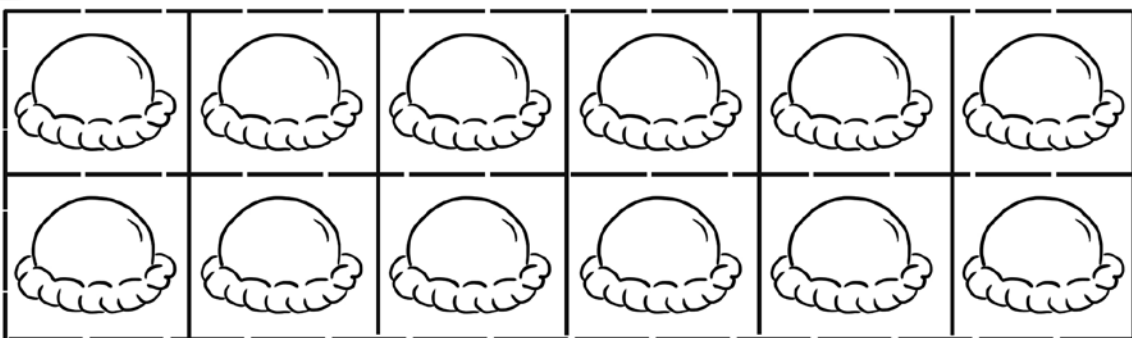
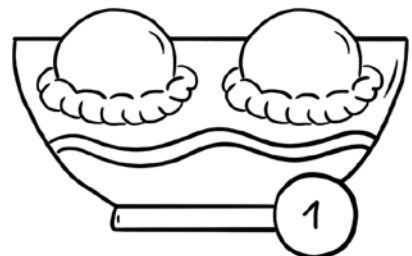
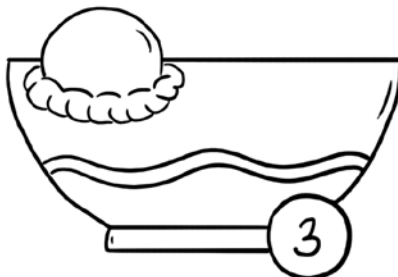
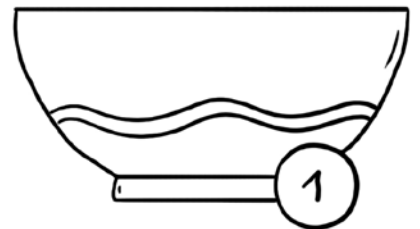
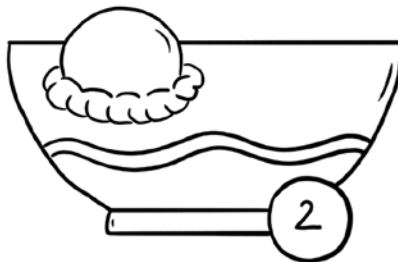

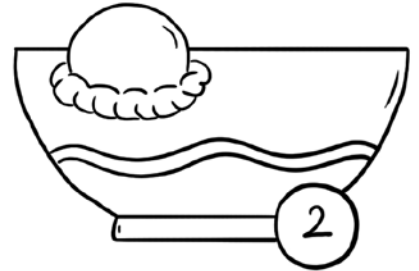
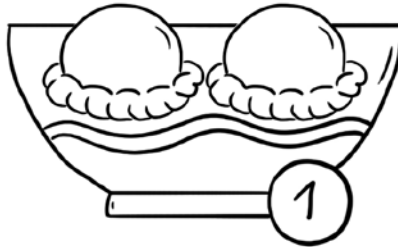
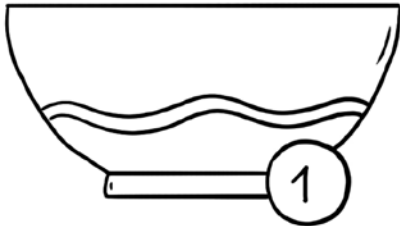


GYVŪNAI	BRŪKŠNELIAI	SKAIČIAI
VABALAI		4
PAUKŠČIAI		
ŽUVYS		
KATĖS		
ŠUNYS		
	IŠ VISO	

PUIKU, TU MAŽASIS MOKSLININKAS!

# VIRTINUKŲ MATEMATIKA

IŠKIRPK VIRTINUKUS. ĮKLIJUOK Į KIEKVIENĄ DUBENĖLĮ TIEK VIRTINUKŲ, KOKS SKAIČIUS PARAŠYTAS APSKRITIME PRIE DUBENĖLIO.



# BALIONO ŠĖLIONĖS

PADĖK BRIEDŽIUKUI PRIPŪSTI BALIONĄ. SUJUNK SKAIČIUS IŠ EILĖS, PRADĖDAMAS NUO MAŽIAUSIO.




5

11



2

12



## PADALINK PO LYGIAI

IŠKIRPK SAUSAINIUS IR PADALINK ABIEM SAVO DRAUGAMS PO LYGIAI. JEI REIKIA, SAUSAINĮ GALI PERKIRPTI PUSIAU.

